




Pozdravljena draga učenka, dragi učenec.

V mesecu maju bo potrebno pri nauku o glasbi pridobiti še kakšno oceno in verjamem, da se boš potrudil in uspešno zaključil šolsko leto. Kako bo to potekalo, še nihče ne ve, vsekakor pa boš pravi čas obvešččen. Ker »VAJA DELA MOJSTRA, ČE MOJSTER DELA VAJO« reši:

PONOVIMO

1. Napiši **b-mol**. Označi stopnje (rimske številke, glavne stopnje), razdalje med toni in tetrakorda. Ne pozabi na predznake! Melodični mol pišemo tudi navzdol. 😊



2. Določi ime durove in vzporedne molove lestvice glede na predznake.



DUR: _____

mol: _____

3. Napiši akorde.

D⁷ D⁷ (E) D⁶₅ D⁴₃ D₂

m⁵₃ d₆ m₆ d⁶₄ m⁶₅

$d_6 = m_3 + \check{c}4$

$d^6_4 = \check{c}4 + v_3$

$m_6 = v_3 + \check{c}4$

$m^6_4 = \check{c}4 + m_3$

4. Napiši intervale.

↑ č, v ↓ č, m (Namig: Glede na tone v lestvici)

č₅ ↑ m₇ ↑ m₆ ↓ v₃ ↓

5. Upam, da vestno vadiš ritmične vaje za spraševanje (Pa ne sprašuj katere! Če si delal redno in sproti, točno veš katere)! ☺



Rešitve pošlji na moj mail: damijana.blazic@guest.arnes.si

Želim ti uspešno delo in te lepo pozdravljam.

Damijana Blažič, prof.