

Pozdravljena draga učenka, dragi učenec.

V mesecu maju bo potrebno pri nauku o glasbi pridobiti še kakšno oceno in verjamem, da se boš potrudil in uspešno zaključil šolsko leto. Kako bo to potekalo, še nihče ne ve, vsekakor pa boš pravi čas obveščen. Ker »VAJA DELA MOJSTRA, ČE MOJSTER DELA VAJO« reši:

PONOVIMO

1. Ponovimo znake za podaljšanje tonov (Pomagaj si z Mali glasbeniki 3 str. 11)

- Znaki za podaljševanje tonov so: pika, ligatura (lok) in korona.
Pika podaljša noto za polovico njenega trajanja.
Ligatura je lok, ki povezuje dve noti iste višine v skupno trajanje.
Korona podaljša notno trajanje za nedoločen čas oziroma najmanj za polovico trajanja.
 Največkrat stoji na koncu skladbe.

Primer.



- Notam dodaj podaljševalne znake.




2. Napiši tone v violinskem in basovskem ključu.

ais2 fis1 des2 b EIS gis FES a


3. Zapiši ime lestvice (v učbeniku poišči, če še katere lestvice ne znaš in jo poskusi zgraditi)

4. Durovim lestvicam zapiši ustrezne predznake.




A musical staff with a treble clef, divided into four measures. Below the staff, the notes A, ES, CIS, and CES are written, corresponding to the four measures.

5. Napiši E-dur (lahko kar v učbenik str. 45). Označi stopnje (rimske številke, glavne lestvične stopnje), razdalje med toni in tetrakorda. Ne pozabi na predznake! ☺




6. Napiši enharmonične tone (učbenik str. 9, 10)



A musical staff with a treble clef, divided into four measures. The notes are: F#4, Gb4, Ab4, and A#4.

7. Napiši intervale.



A musical staff with a treble clef, divided into four measures. The notes are: C4, E#4, Gb4, and B4. Below the staff, the intervals are labeled: m3 ↑, v2 ↑, v3 ↓, and m2 ↓.



Rešitve pošlji na moj mail: damijana.blazic@guest.arnes.si

Želim ti uspešno delo in te lepo pozdravljam.

Damijana Blažič, prof.